

Московская олимпиада школьников. История. 7 класс. Отборочный этап, 2021/22

15 дек 2021 г., 09:00 — 16 янв 2022 г., 23:59

16 баллов

Рассмотрите изображения воинов и сопоставьте их с именами военачальников, в войсках которых они могли бы сражаться. Обратите внимание: среди имён есть лишние.

1		2	
3		4	
5		6	

7



8



Александр Македонский



Аякс Великий



Богдан Хмельницкий

Василий II Болгаробойца



Ксеркс

Марк Туллий Цицерон



Мстислав Изяславич

Оливер Кромвель



Рамсес II

Ричард I Львиное Сердце



Субэдэй

Сулейман II

Хлодвиг



Цинь Шихуан

Юлий Цезарь

№ 2

10 баллов

Язык постоянно меняется, и многие слова, которыми активно пользовались наши предки, современными людьми уже не используются. Перед вами список слов и их значений. Сопоставьте их.


Слова	Значения
Вервь	Автомобиль
Воздухоплавательный снаряд	Договор
Потаённое судно	Небоскрёб
Дальнописец	Община у древних славян
Конка	Переводчик
Ряд	Подводная лодка
Самоход	Почтовая станция
Толмач	Самолёт
Тучерез	Телеграф
Ям	Трамвай

6 баллов

Выберите фотографии сооружений, построенных в архитектурном стиле, название которого пропущено во всех представленных словосочетаниях.

- «Ганзейская...»
- «Испанская...»
- «Высокая...»
- «Пламенеющая...»





4 балла

Рассмотрите изображение и выберите суждения, верно описывающие время, которое высмеивается в карикатуре.



- Сюжет карикатуры характерен для XII в.
- Сюжет, которому посвящена карикатура, перестал быть актуальным в период правления Ярослава Мудрого.
- Богатырь, изображённый на карикатуре, вооружён оружием, характерным для воинов Древней Руси.
- Все персонажи, изображённые на карикатуре, являются действующими лицами былины про Садко.
- Слова крестьянина на изображении приводятся в дореволюционной орфографии.

3 балла

Рассмотрите иллюстрации и ответьте на вопросы.

Перед вами фотография из космоса бухты на Дальнем Востоке России, по форме напоминающей одноимённый залив в районе Мраморного моря. Дальневосточная бухта так была названа только в XIX веке, в эпоху освоения, тогда как «оригинал» в районе Мраморного моря получил своё название ещё в эпоху античности.



<p>А</p>	<p>Б</p>
<p>В</p>	<p>Г</p>
<p>Д</p>	<p>Е</p>

Вспомнив название бухты, выберите крепость, расположенную в городе, в границах которого находится «оригинал».






3 балла

Выберите крепость, расположенную в городе, в битве за который никогда не сражались русские войска (с той или другой стороны).



3 балла

Выберите изображение крепости, которая расположена в городе, являющемся столицей республики – одного из субъектов Российской Федерации.



Соотнесите описания исторических сюжетов и крепостей, с которыми они связаны.

Султан сказал, что мы сделали всё, что могли, чтобы уберечь от него город, и что из-за нас он не смог его захватить в первый же день. Тут он и в самом деле был прав, и мы были в большой опасности. Чтобы избежать его гнева, нам пришлось поступать, как он велел, как ты увидишь из дальнейшего; всё это было сделано от имени жителей. Он повсюду сеял разрушение. Снесены были башни на стенах, большую часть рва засыпали, по его приказу снесли башню Святого Креста, а также часть куртины внутри барбакана и часть барбакана. Стены со стороны моря оставили. Султан забрал все наши пушки, он также собирается забрать всё оружие и все средства ведения войны, какие есть у горожан.



Боевые группы, организовавшиеся в Цитадели в первые дни боёв, не имели единого командования. У Холмских ворот оборону держали бойцы 3-го батальона и штабных подразделений 84-го стрелкового полка под руководством полкового комиссара Е.М. Фомина.

Необходимо было удержать огромный фронт оборонительной казармы, обеспечить сражавшихся боеприпасами, изыскивать воду и продовольствие, оказывать помощь раненым, заботиться о судьбе женщин и детей. Несколько раз штаб пытался установить связь с вышестоящим командованием, но безуспешно.

В своей деятельности штаб опирался на партийную организацию, созданную в ходе боя.



Вся страна, увидя такие великие несчастья, что они царя и великого князя отправили в Польшу, бояре, князья, всё войско, жители всех состояний, по повелению Гермогена, патриарха всея Руси, и все города — решились и присягнули стать за истинную христианскую веру, за всю московитскую землю, против срама и оскорблений, причинённых нашему царю и великому князю Василию



Ивановичу вся Русь, стоять друг за друга против поляков и некоторых русских изменников. Условившись об этом и собравшись, они приступили к городу, взяли приступом новую каменную стену, убили множество польского, литовского и немецкого войска; остальные польские, литовские и немецкие войска заперлись в двух городах, в Китай-городе и _____, и писали к королю о помощи.

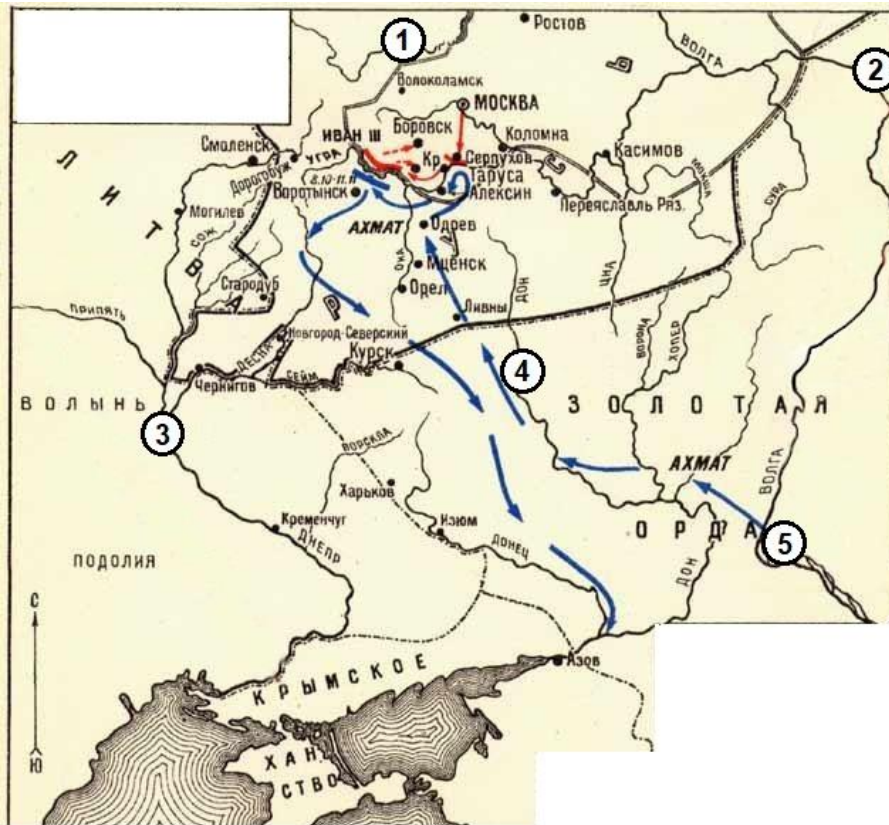


Тутъ любовь къ древней свободѣ въ послѣдній разъ сильно обнаружилась на Вѣчѣ. Думали, что Великій Князь хочетъ обмануть ихъ, и для того не даетъ клятвы въ вѣрномъ исполненіи его слова. Сія мысль поколебала въ особенности Бояръ, которые не стояли ни за Вечевый колоколъ, ни за Посадника, но стояли за свои отчины. «Требуемъ битвы! – восклицали тысячи. – Умремъ за вольность и Святую Софію!» Но сей порывъ великодушія не произвелъ ничего, кромѣ шума, и долженъ былъ уступить хладнокровію разсудка.



6 баллов

Рассмотрите схему и выберите верные утверждения.



- На схеме обозначена река, события у которой привели к прекращению зависимости русского государства от Золотой Орды.
- В ходе событий, отражённых на схеме, русскими войсками был взят Азов.
- На схеме обозначен город, в котором княжил родоначальник династии Рюриковичей.
- Территория российского государства, в период событий, отражённых на схеме, включала земли Казанского ханства.
- На схеме обозначено название государства, которое к моменту событий, происходящих на схеме, прекратило своё существование.
- На схеме обозначен город, который стал столицей княжества после разорения старой столицы, а в дальнейшем получил одноимённое со старым городом название.

8 баллов

Рассмотрите схему выше и приведённые иллюстрации и выберите верные утверждения.




Данное архитектурное сооружение находится в городе, обозначенном на схеме цифрой 2.



Данный памятник находится в городе, обозначенном на схеме цифрой 3.



На схеме обозначены походы правителя, памятник которому представлен на иллюстрации.




На схеме обозначена река, где произошли события, изображённые на миниатюре.



Цифрой 1 схеме обозначен город, в котором произошли события, изображённые на картине.



На изображении представлены события, произошедшие в ходе похода, обозначенного на схеме синей стрелкой.



Автор произведения, обложка которого представлена на изображении, происходил из города, обозначенного на схеме цифрой 1.



Цифрой 5 на схеме обозначен город, в котором расположен данный памятник архитектуры.



Монастырь, запечатлённый на фотографии, расположен в городе, обозначенном на схеме цифрой 4.



На схеме обозначен город, в котором произошли события, изображённые на миниатюре.

2 балла

На изображении представлена монета в честь юбилея основания одного из древнейших российских городов. Укажите прозвище князя, который считается основателем этого города.



Долгорукий

Мономах

Победоносец

Мудрый

Осмомысл

Боголюбский

Большое Гнездо

2 балла

Укажите ещё один город, основанный этим князем.

Дмитров

Москва

Владимир

Великий Новгород

Юрьев



Чернигов

Вологда

4 балла

Выберите иллюстрации, сюжетно связанные с именем этого правителя.







10 баллов

Прочитайте текст и выполните задания.

[Открыть текст в отдельном окне](#)

«Прекрасная княжна, знаменитая, а нам очень милая супруга наша. От нашей с вами разлуки всегда и непрерывно создатель неба и земли нас и наших людей одаривал милостью и лаской и хранил в добром здравии. И под его опекой на землю врага войдя, сколько раз под каким-нибудь городом становились, всякий раз без труда его захватывали. Тогда во вторник, в праздник рассеяния апостолов, магистр крестоносцев со всеми своими силами к войскам нашим приблизился, желая начать с нами битву, когда мы лично слушали святую мессу. Её набожно до конца выслушав, со всем войском нашим, на поле битвы вышли, где построив ряды и разместив их, приготовились таким образом к бою. Когда же уже друг друга видели, магистр крестоносцев и маршал через своих послов нам и великолепному князю господину Витовту, брату нашему найдражайшему, два меча прислал со словами: “Знайте, король и Витовт, что в этот час в битве с вами сойдёмся. Эти же мечи вам в помощь в дар преподносим. Позвольте же нам выбрать место для битвы, либо же сами выберите”. На что ответили мы смиренно: “Мечи, которые нам прислали, принимаем и во имя Христа, который гордые шеи гнёт, сражаться с вами будем, но место битвы указать вам и не можем, и не хотим. В битве же с вами сойдёмся в месте, которое Бог всемогущий выбрать для нас пожелает”. Затем без промедления, армию, как нами говорилось, имея уже построенную, начали бой, в котором среди бесчисленных убитых, сами же очень незначительные имея потери не благодаря нашей силе, или войск численности, но единственно благодаря силе и доброте Бога, который только бы всегда нас успехом одаривал, упомянутых великого магистра и маршала, Шварцбурга, и ельблонгского и многих других комтуров крестоносцев посекали, других же к бегству вынудили и лично преследовать стали. Две мили были преследуемые, а убегая в озёрах и реках, что были на пути их бегства, в большом числе утонули, других же убили, так что очень немногие ушли. Сражаясь же с прусаками, которых по милости божьей победили и разгромили, Конрада младшего Олесъницкого и Щецинского, Кристофа из Венгрии и других бесчисленных гостей Ордена в плен взяли и как невольников держим».

Выберите верные утверждения.

- Приведённый источник был написан незадолго до начала битвы войск автора с войсками крестоносцев.
- Автор говорит о Божественной милости, которая сопутствовала ему в предыдущих военных походах.
- Согласно источнику, магистр крестоносцев пал в битве.
- В источнике автор указывает на неудачную попытку мирных переговоров.
- Автор источника невысоко оценивает воинское искусство крестоносцев.
- Автор источника был знатного происхождения.
- Согласно источнику, крестоносцы не смогли привлечь на свою сторону союзников.

В тексте упоминается название одного из исчезнувших союзов балтийских племен.

С именем одного из участников упомянутых в тексте событий связано подписание Кревской унии.

Упомянутая в тексте княжна была дочерью князя Ярослава Владимировича.

2 балла

Выберите изображение, на котором запечатлены события из источника.





5 баллов

Выберите из приведённого списка события, произошедшие в том же веке, что и описанные в тексте.

Издание Великой хартии вольностей

Издание Судебника Ивана III

Война Алой и Белой розы

Жакерия

Тридцатилетняя война

Завершение Реконкисы

Гуситские войны

Второй крестовый поход

Перенос резиденции митрополита в Москву

Ослепление Василия II

5 баллов

Рассмотрите плакаты. Выберите те, которые относятся к периоду Великой Отечественной войны.





